

1. Différentes représentations de la Terre.



un globe terrestre

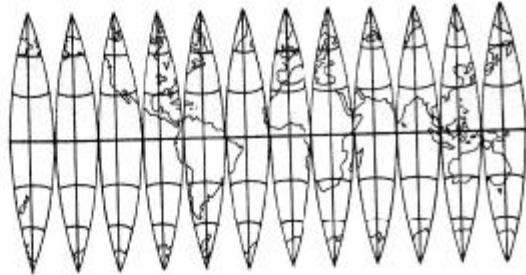


une photo satellite




un planisphère

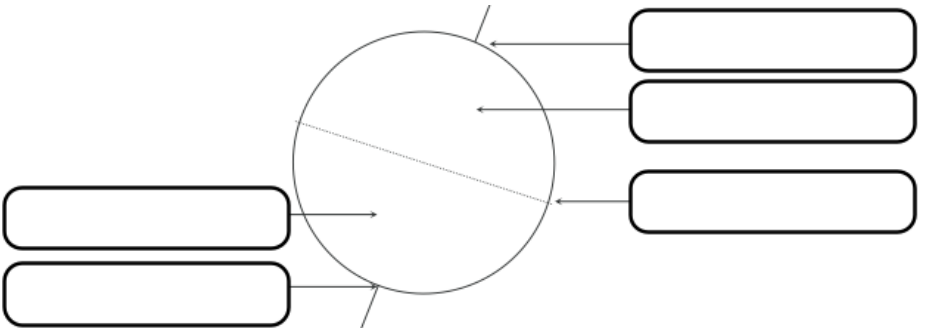
2. La représentation à plat.



2. Les points cardinaux



1. Les lignes imaginaires.

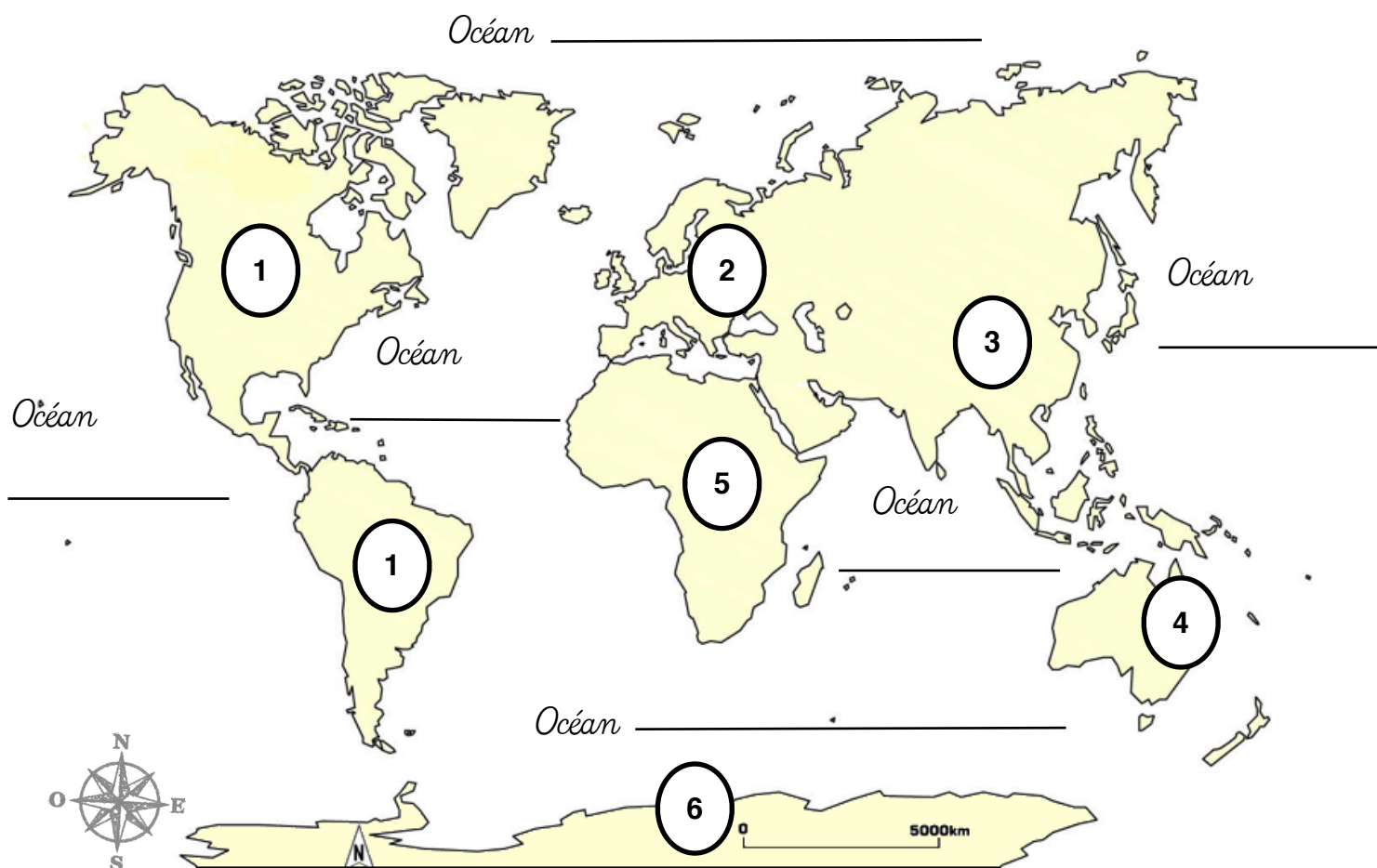


3. Les lignes imaginaires.



- Observe les points cardinaux indiqués sur le dessin : Nord (N), Sud (S), Ouest (O), Est (E).
- Sophie et Laurent se promènent dans la campagne. Dans quelle direction se trouvent pour eux : le village, le château d'eau, le bois, l'étang ?

Les continents et les océans



- 1 : 2 :
- 3 : 4 :
- 5 : 6 :

Quelques questions pour s'entraîner...

Quel continent est un grand ensemble d'îles ?

Quel continent est le plus déformé par rapport à sa taille sur le globe ?

Dans quel hémisphère sont situés la plupart des continents ?

Quel est le plus petit continent ? le plus grand ?
