

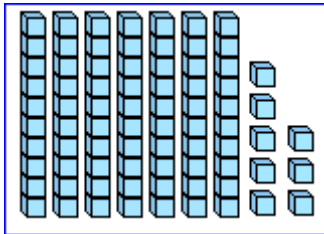
Prénom :

# La soustraction

CALCUL

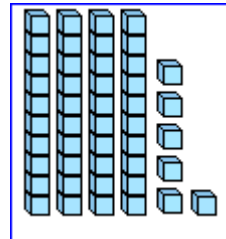
1

Observe la soustraction en colonnes, puis barre les dizaines et unités en trop sur le dessin. Ecris les résultats.



$$\begin{array}{r} \text{D U} \\ 78 \\ - 24 \\ \hline \end{array}$$

.....

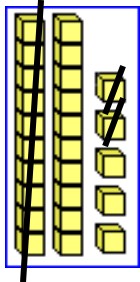


$$\begin{array}{r} \text{D U} \\ 46 \\ - 32 \\ \hline \end{array}$$

.....

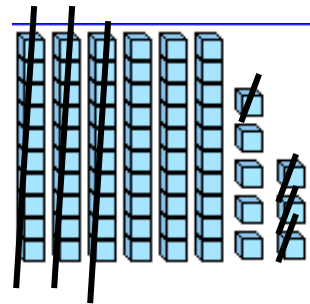
2

Observe le dessin, puis écris la soustraction représentée et calcule-la :



$$\begin{array}{r} \text{D U} \\ \text{.....} \\ - \text{.....} \\ \hline \end{array}$$

.....



$$\begin{array}{r} \text{D U} \\ \text{.....} \\ - \text{.....} \\ \hline \end{array}$$

.....

3

Calcule ces soustractions. Vérifie ensuite ton résultat.

$$\begin{array}{r} 96 \\ - 42 \\ \hline \end{array}$$

.....

$$\begin{array}{r} 58 \\ - 31 \\ \hline \end{array}$$

.....

$$\begin{array}{r} 46 \\ - 15 \\ \hline \end{array}$$

.....

$$\begin{array}{r} 385 \\ - 162 \\ \hline \end{array}$$

.....

$$\begin{array}{r} 208 \\ - 103 \\ \hline \end{array}$$

.....

$$\begin{array}{r} 459 \\ - 47 \\ \hline \end{array}$$

.....

4

Pose et calcule ces soustractions. Vérifie ensuite ton résultat.

88 - 53

95 - 31

39 - 26

474 - 223

493 - 62