
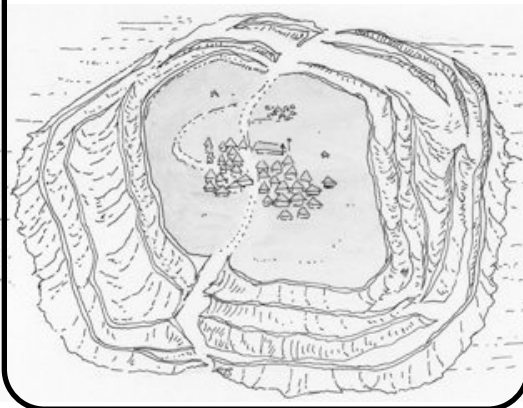


La Gaule celtique VII^e-I^{er} siècle av. J.-C.



La hiérarchie chez les Gaulois

Un oppidum



Les druides s'occupent des affaires religieuses. Ils instruisent les jeunes. Si un meurtre est commis, s'il y a une dispute au sujet d'un héritage ou d'un terrain, ils jugent et fixent les amendes. Ils ne vont pas à la guerre et ne paient pas d'impôts.

Jules César, La Guerre des Gaules, I^{er} s. av. J.-C.

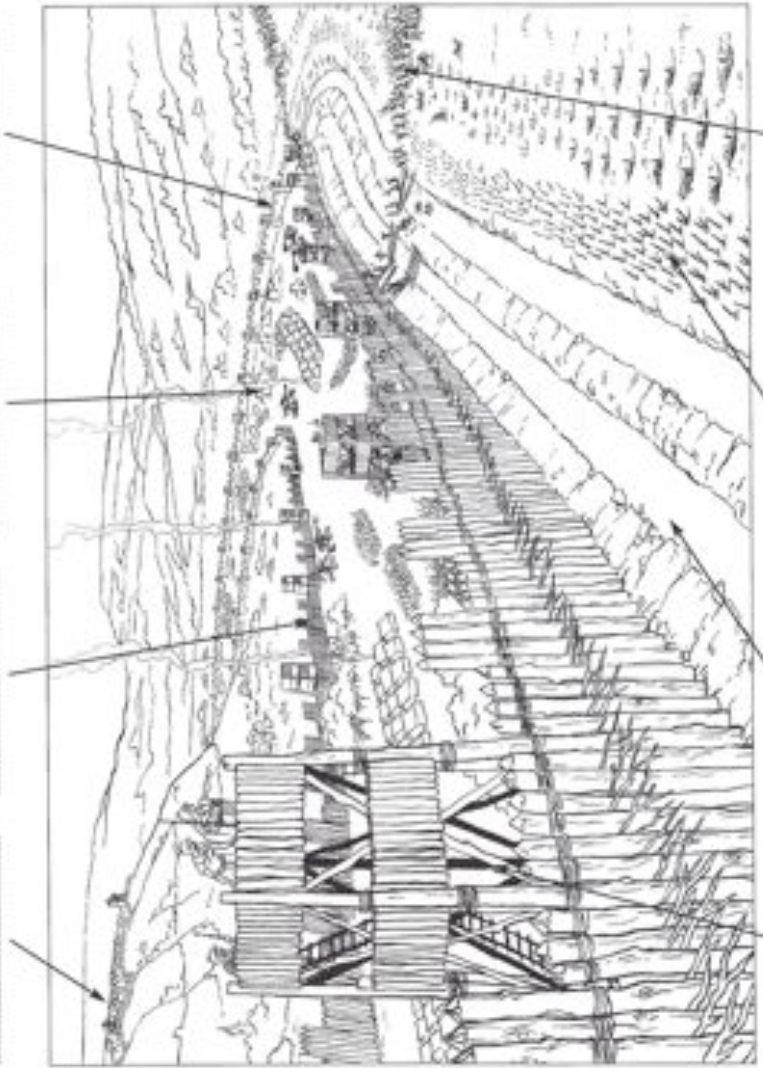
Lis le texte et complète le fléchage de la reconstitution d'Alésia en recopiant les passages soulignés.

L'armée de Vercingétorix attira les Romains en se réfugiant dans l'oppidum d'Alésia, au sommet de la colline. Jules César assiégea les Gaulois en installant ses troupes autour de l'oppidum. Il fit construire deux palissades :

- une palissade intérieure pour empêcher Vercingétorix et les Gaulois de sortir de l'oppidum,
- une palissade extérieure pour se protéger des Gaulois venus au secours des assiégés.

Le camp romain était installé entre les deux palissades, lesquelles étaient surmontées de tours et protégées par des fossés remplis d'eau et des pieux enfoncés dans le sol, pointés vers le haut. Les Gaulois ne parvinrent pas à vaincre les Romains et Vercingétorix dut se rendre.

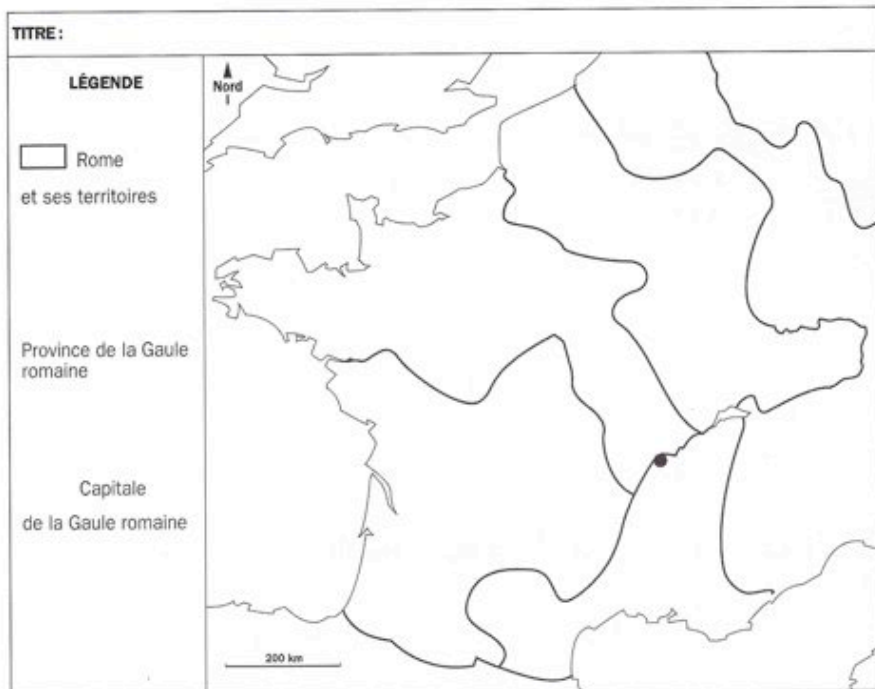
1. _____ 2. _____ 3. _____ 4. _____



5. _____ 6. _____ 7. _____ 8. _____

Complète la carte de la Gaule romaine.

1. Colorie en jaune les régions dominées par les Romains.
2. Repasse en rouge les limites de la Gaule.
3. Place le nom des provinces romaines et celui de la capitale des Gaules : Belgique, Lyonnaise, Aquitaine, Narbonnaise, Lyon.
4. Complète la légende et donne un titre à la carte.



Re lie chaque nom au monument gallo-romain qui le représente :

- aqueeduc
- théâtre
- temple
- arc de triomphe
- arènes

