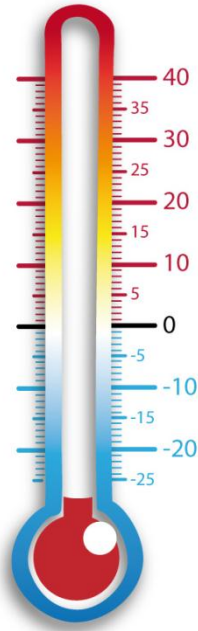
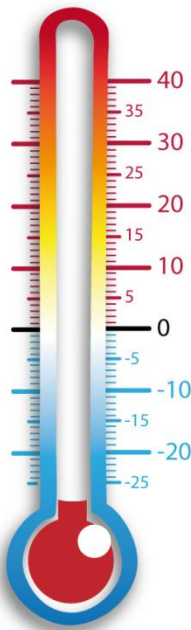
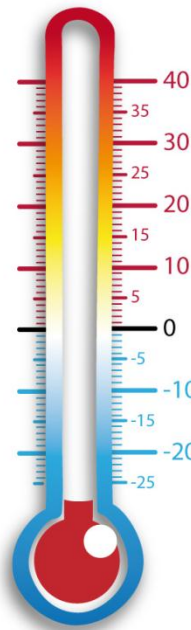


Mes expériences avec le thermomètre

Le thermomètre **avant** les expériences :



Pour mes expériences, j'ai mis :

<p>- Le thermomètre dans de l'eau froide.</p>  A vertical thermometer with a red bulb and a blue base. The scale ranges from -25 to 40 degrees Celsius. The liquid level is at 0 degrees Celsius.	<p>- Le thermomètre dans de l'eau chaude.</p>  A vertical thermometer with a red bulb and a blue base. The scale ranges from -25 to 40 degrees Celsius. The liquid level is at 0 degrees Celsius.
---	---

Maintenant je sais que :

_____ fait monter le niveau du liquide dans le thermomètre.

_____ fait descendre le niveau du liquide dans le thermomètre.