

Prénom :

Date :

Les barres rouges et bleues 2

Numération

1.  **Colorie** le nombre d'unités indiquées.

										5
										9
										2
										10
										3
										1
										6
										8
										4
										7

2.  **Colle** les barres dans l'ordre.

--	--

--	--	--	--	--	--

--	--	--	--	--	--	--	--	--

--	--	--	--

--	--	--	--	--	--	--	--	--	--

--

--	--	--	--	--	--	--

--	--	--	--	--	--	--	--

--	--	--

--	--	--	--	--

--	--

--	--	--	--	--	--

--	--	--	--	--	--	--	--	--

--	--	--	--

--	--	--	--	--	--	--	--	--	--

--

--	--	--	--	--	--	--

--	--	--	--	--	--	--	--

--	--	--



--	--	--	--	--

Prénom :

Date :

Les barres rouges et bleues 6

Numération

1.  **Colorie** les barres qui se terminent par une unité *bleue* et ^{1 2 3 4}  **écris** leur nombre.



--	--	--	--	--	--	--	--	--	--

--	--	--	--	--	--	--	--	--	--

--	--	--	--	--	--	--	--	--	--

--	--	--	--	--	--	--	--	--	--

--	--	--	--	--	--	--	--	--	--

2.  **Colorie** les barres qui se terminent par une unité *rouge* et ^{1 2 3 4}  **écris** leur nombre.

--	--	--	--	--	--	--	--	--	--

--	--	--	--	--	--	--	--	--	--

--	--	--	--	--	--	--	--	--	--

--	--	--	--	--	--	--	--	--	--

--	--	--	--	--	--	--	--	--	--

3. ^{1 2 3 4}  **Ecris** le nombre si tu ajoutes 1 :

--	--	--	--	--	--	--

--	--	--	--	--	--	--	--	--	--	--

--	--	--	--

--	--	--	--	--	--

